

1 Coloca y resuelve.

$24 + 36$

| | | |
|--|--|--|
| | | |
| | | |
| | | |
| | | |

$9 + 53$

| | | |
|--|--|--|
| | | |
| | | |
| | | |
| | | |

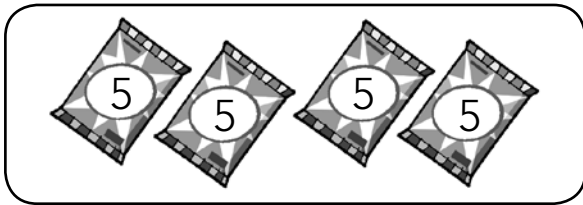
$86 - 52$

| | | |
|--|--|--|
| | | |
| | | |
| | | |
| | | |

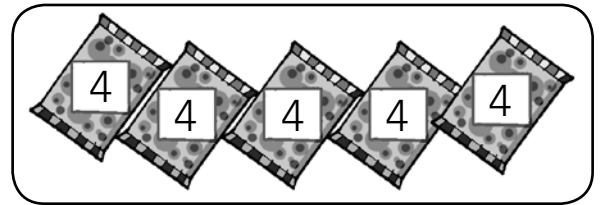
$79 - 45$

| | | |
|--|--|--|
| | | |
| | | |
| | | |
| | | |

2 ¿Dónde hay más cromos? Resuelve y explica.



$$\square \times \square$$



$$\square \times \square$$

3 Completa la tabla del 2.

$2 \times 1 = \square$

$\square \times \square = \square$

$2 \times 2 = \square$

$\square \times \square = \square$

$2 \times 3 = \square$

$\square \times \square = \square$

$2 \times \square = \square$

$\square \times \square = \square$

$2 \times \square = \square$




$\square \times \square = \square$




4 Escribe, en orden, el nombre de los meses del año.

Four sets of handwriting practice lines, each consisting of a solid top line, a dashed middle line, and a solid bottom line.

- Rodea de rojo los meses que tienen 30 días y de azul los que tienen 31.

5 Lee y escribe lo que falta en estos problemas.

| | | |
|---|---|--|
| Antes | ¿Qué ocurre? | Después |
|  <p>Tenía 8 euros.</p> |  <p>$8 + 10$</p> |  <p>Ahora tengo 18 euros.</p> |

| | | |
|--|--|--|
| Antes | ¿Qué ocurre? | Después |
|  <p>Tenía 25 euros.</p> |  <p>$25 - 12$</p> |  <p>Me quedan 13 euros.</p> |