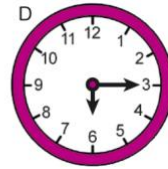
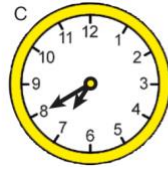
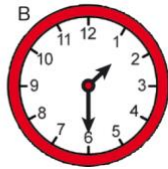
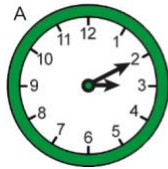


## FICHA DE REPASO MEDIDAS DE TIEMPO 2

1) Dibuja estas horas en estos relojes analógicos:



2) Escribe la hora que marcan estos relojes analógicos:



3) ¿Cuántas horas tiene un día? ¿Y medio día?

4) Expresa en minutos.

Un cuarto de hora	Media hora	1 hora y tres cuartos

5) Expresa en segundos:

3 minutos=

5 minutos=

10 minutos=