



FICHA 3

Los números del 100 al 199

1 Cuenta y completa.

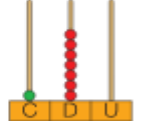



 $\square$  C +  $\square$  D +  $\square$  U  
 $\square$  +  $\square$  +  $\square$  =  $\square$



 $\square$  C +  $\square$  U  
 $\square$  +  $\square$  =  $\square$



 $\square$  C +  $\square$  D +  $\square$  U  
 $\square$  +  $\square$  +  $\square$  =  $\square$



 $\square$  C +  $\square$  D  
 $\square$  +  $\square$  =  $\square$

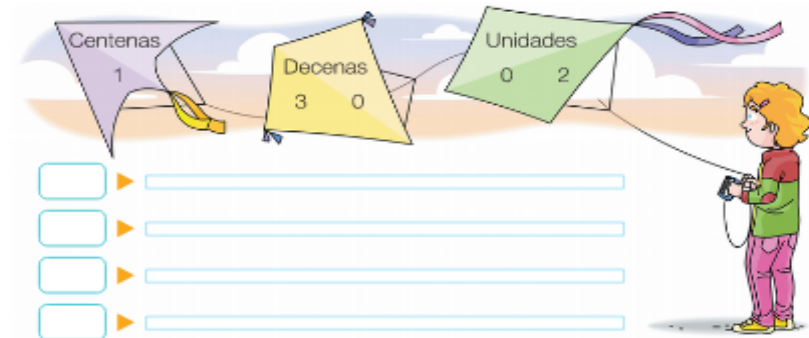
2 Relaciona y completa.

ciento siete	$117 = \square + \square + \square$
ciento setenta	$170 = \square + \square$
ciento diecisiete	$107 = \square + \square$
ciento setenta y uno	$171 = \square + \square + \square$

3 Escribe cada número.

Ciento doce  $\triangleright$        Ciento noventa  $\triangleright$    
 Ciento veintinueve  $\triangleright$        Ciento ochenta y cinco  $\triangleright$    
 178  $\triangleright$    
 140  $\triangleright$    
 103  $\triangleright$

4 Escribe todos los números de tres cifras posibles con las cifras de las cometas.



$\triangleright$    
  $\triangleright$    
  $\triangleright$    
  $\triangleright$









5 Completa las series.



100 110 120  
 125 130 135  
 130 132 134

**3 Fíjate en los peces que hay de cada color y calcula.**



**4 Lee detenidamente y resuelve.**

- Esta mañana, Paloma ha leído 19 páginas de un libro. Por la tarde ha leído otras 36 páginas. ¿Cuántas páginas ha leído en total?

Datos  y

Operación 

Solución

- Esta mañana, Laura ha leído 27 páginas de un libro. Por la tarde ha leído 18 páginas más que por la mañana. ¿Cuántas páginas ha leído por la tarde?

Datos  y

Operación 

Solución

**4** Inventa una resta de cada tipo y resuélvela.  
 Usa números de dos cifras.

Resta  
sin llevar



Resta  
llevando



**5** Lee y resuelve.

- La película dura 90 minutos y empezó hace 49 minutos.  
 ¿Cuántos minutos faltan para que termine?

Datos

y

Operación



Solución


\_\_\_\_\_

- A la excursión al campo se han apuntado 75 personas.  
 A la visita al museo, 49 personas. ¿Cuántas personas  
 se han apuntado a la excursión más que a la visita?

Datos

y

Operación



Solución

\_\_\_\_\_

**3** Escribe cada número.

Ciento doce ▶

Ciento noventa ▶

Ciento veintinueve ▶

Ciento ochenta y cinco ▶

178 ▶

140 ▶

103 ▶

**4** Escribe todos los números de tres cifras posibles con las cifras de las cometas.

Centenas: 1  
Decenas: 3, 0  
Unidades: 0, 2

▶

▶

▶

▶

**5** Completa las series.

100 110 120

125 130 135


130 132 134

5

FICHA 1


Los números del 200 al 399

1 Completa y relaciona.




C +  D +  U

+  +  =




C +  D

+  =

C +  D

+  =



C +  U

+  =

2 Colorea igual las cartelas que expresan un mismo número.

<input type="text" value="2 C + 1 D + 9 U"/>	<input type="text" value="350"/>	<input type="text" value="Doscientos noventa y uno"/>
<input type="text" value="305"/>	<input type="text" value="3 C + 5 U"/>	<input type="text" value="Doscientos diecinueve"/>
<input type="text" value="291"/>	<input type="text" value="Trescientos cincuenta"/>	<input type="text" value="3 C + 5 D"/>
<input type="text" value="Trescientos cinco"/>	<input type="text" value="219"/>	<input type="text" value="2 C + 9 D + 1 U"/>